

# Einstern 3: das Themenheft


Die Kinder lernen verschiedene Vorgehensweisen kennen und wählen ihren individuellen Weg.

## In der Stellentafel addieren



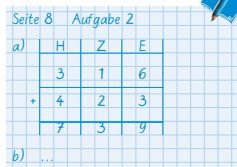
1 Zeichne die Stellentafeln in dein Heft. Rechne und sprich dazu.

a	<table border="1"><tr><th>H</th><th>Z</th><th>E</th></tr><tr><td>3</td><td>4</td><td>5</td></tr><tr><td>2</td><td>3</td><td>1</td></tr><tr><td> </td><td> </td><td> </td></tr></table>	H	Z	E	3	4	5	2	3	1				b	<table border="1"><tr><th>H</th><th>Z</th><th>E</th></tr><tr><td>1</td><td>2</td><td>3</td></tr><tr><td>4</td><td>1</td><td>2</td></tr><tr><td> </td><td> </td><td> </td></tr></table>	H	Z	E	1	2	3	4	1	2				c	<table border="1"><tr><th>H</th><th>Z</th><th>E</th></tr><tr><td>7</td><td>2</td><td>5</td></tr><tr><td>1</td><td>6</td><td>4</td></tr><tr><td> </td><td> </td><td> </td></tr></table>	H	Z	E	7	2	5	1	6	4			
H	Z	E																																							
3	4	5																																							
2	3	1																																							
H	Z	E																																							
1	2	3																																							
4	1	2																																							
H	Z	E																																							
7	2	5																																							
1	6	4																																							
d	<table border="1"><tr><th>H</th><th>Z</th><th>E</th></tr><tr><td> </td><td>5</td><td>6</td></tr><tr><td>3</td><td>2</td><td>1</td></tr><tr><td> </td><td> </td><td> </td></tr></table>	H	Z	E		5	6	3	2	1				e	<table border="1"><tr><th>H</th><th>Z</th><th>E</th></tr><tr><td>2</td><td>3</td><td>0</td></tr><tr><td>5</td><td>0</td><td>6</td></tr><tr><td> </td><td> </td><td> </td></tr></table>	H	Z	E	2	3	0	5	0	6				f	<table border="1"><tr><th>H</th><th>Z</th><th>E</th></tr><tr><td>8</td><td>2</td><td>0</td></tr><tr><td> </td><td>5</td><td>7</td></tr><tr><td> </td><td> </td><td> </td></tr></table>	H	Z	E	8	2	0		5	7			
H	Z	E																																							
	5	6																																							
3	2	1																																							
H	Z	E																																							
2	3	0																																							
5	0	6																																							
H	Z	E																																							
8	2	0																																							
	5	7																																							



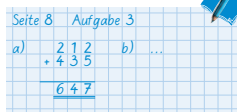
2 Schreibe jede Aufgabe in eine Stellentafel und berechne das Ergebnis.

- |   |               |   |               |
|---|---------------|---|---------------|
| a | $316 + 423 =$ | b | $73 + 516 =$  |
| c | $665 + 212 =$ | d | $325 + 203 =$ |
| e | $306 + 510 =$ | f | $451 + 36 =$  |




3 Schreibe die Zahlen wie in der Stellentafel untereinander und berechne das Ergebnis.

- |   |               |   |               |
|---|---------------|---|---------------|
| a | $212 + 435 =$ | b | $512 + 346 =$ |
| c | $306 + 251 =$ | d | $412 + 360 =$ |
| e | $517 + 72 =$  | f | $83 + 514 =$  |



## Die eigene Rechnung überprüfen



1 Löse die Aufgaben. Suche dann drei verschiedene Möglichkeiten, deine Ergebnisse zu überprüfen. Welche Methoden sind sinnvoll, welche nicht? Schreibe deine Überlegungen dazu auf. Besprich sie mit anderen Kindern.

- |   |        |   |        |   |        |
|---|--------|---|--------|---|--------|
| a | $374$  | b | $471$  | c | $234$  |
|   | $+487$ |   | $+305$ |   | $+476$ |
| d | $286$  | e | $338$  | f | $457$  |
|   | $+308$ |   | $+75$  |   | $+93$  |
|   | $+157$ |   | $+199$ |   | $+5$   |



Seite 20 Aufgabe 1



2 Überprüfe die Rechnungen. Überlege zuerst, welche Methode für dich die sinnvollste ist. Schreibe sie auf.

- |   |                  |   |                  |   |                  |
|---|------------------|---|------------------|---|------------------|
| a | $458$            | b | $362$            | c | $435$            |
|   | $+37$            |   | $+97$            |   | $13$             |
|   | $+365$           |   | $+208$           |   | $+388$           |
|   | $\frac{12}{860}$ |   | $\frac{1}{567}$  |   | $\frac{11}{953}$ |
| d | $168$            | e | $88$             | f | $70$             |
|   | $+415$           |   | $+394$           |   | $+368$           |
|   | $+47$            |   | $+470$           |   | $+195$           |
|   | $\frac{12}{631}$ |   | $\frac{21}{952}$ |   | $\frac{21}{633}$ |

Seite 20 Aufgabe 2

